

ТОМБОЛА 1

128		293	369
135	184	360	372

ТОМБОЛА 2

133	194	293	372
170	290		478

ТОМБОЛА 3

133	194	291	
176	287	362	372

ТОМБОЛА 4

135	184	360	478
	287	362	488

ТОМБОЛА 5

128	184	291	427
133		369	478

ТОМБОЛА 6

170	194		427
180	290	360	488

ТОМБОЛА 7

128		293	369
133	184	360	372

ТОМБОЛА 8

133	194	293	427
170	290		478

ТОМБОЛА 9

135	194	291	
176	287	362	372

ТОМБОЛА 10

135	184	360	478
	287	362	488

ТОМБОЛА 11

128	184	291	427
176		369	478

ТОМБОЛА 12

170	194		372
180	290	360	488

ТОМБОЛА 13

128		291	369
135	184	360	372

ТОМБОЛА 14

133	194	293	372
170	290		478

ТОМБОЛА 15

133	194	291	
176	287	362	427

ТОМБОЛА 16

135	194	360	478
	287	369	488

ТОМБОЛА 17

128	194	291	427
133		369	478

ТОМБОЛА 18

170	194		427
180	290	293	478

ТОМБОЛА 19

128		293	369
170	184	360	372

ТОМБОЛА 20

133	194	369	427
170	290		478

ТОМБОЛА 21

170	194	291	
176	287	362	372

ТОМБОЛА 22

135	184	360	478
	287	362	488

ТОМБОЛА 23

128	184	291	427
176		369	478

ТОМБОЛА 24

170	184		427
180	290	360	488

ТОМБОЛА 25			
133	194	362	427
170	290		488

ТОМБОЛА 26			
135	184	360	478
	287	362	488

ТОМБОЛА 27			
170	194		372
180	291	362	488

$137 - 4$

$139 - 4$

$179 - 9$

$137 - 9$

$186 - 2$

$196 - 2$

$182 - 2$

$182 - 6$

$294 - 1$

$294 - 3$

$294 - 4$

$294 - 7$

$377 - 5$

$367 - 5$

$367 - 7$

$377 - 8$

$483 - 5$

$369 - 1$

$431 - 4$

$496 - 8$

Zadaci za tombolu

$137 - 4 = 133$

$139 - 4 = 135$

$179 - 9 = 170$

$137 - 9 = 128$

$186 - 2 = 184$

$196 - 2 = 194$

$182 - 2 = 180$

$182 - 6 = 176$

$294 - 1 = 293$

$294 - 3 = 291$

$294 - 4 = 290$

$294 - 7 = 287$

$377 - 5 = 372$

$367 - 5 = 362$

$367 - 7 = 360$

$377 - 8 = 369$

$483 - 5 = 478$

$369 - 1 = 368$

$431 - 4 = 427$


$496 - 8 = 488$

zelena




zelena





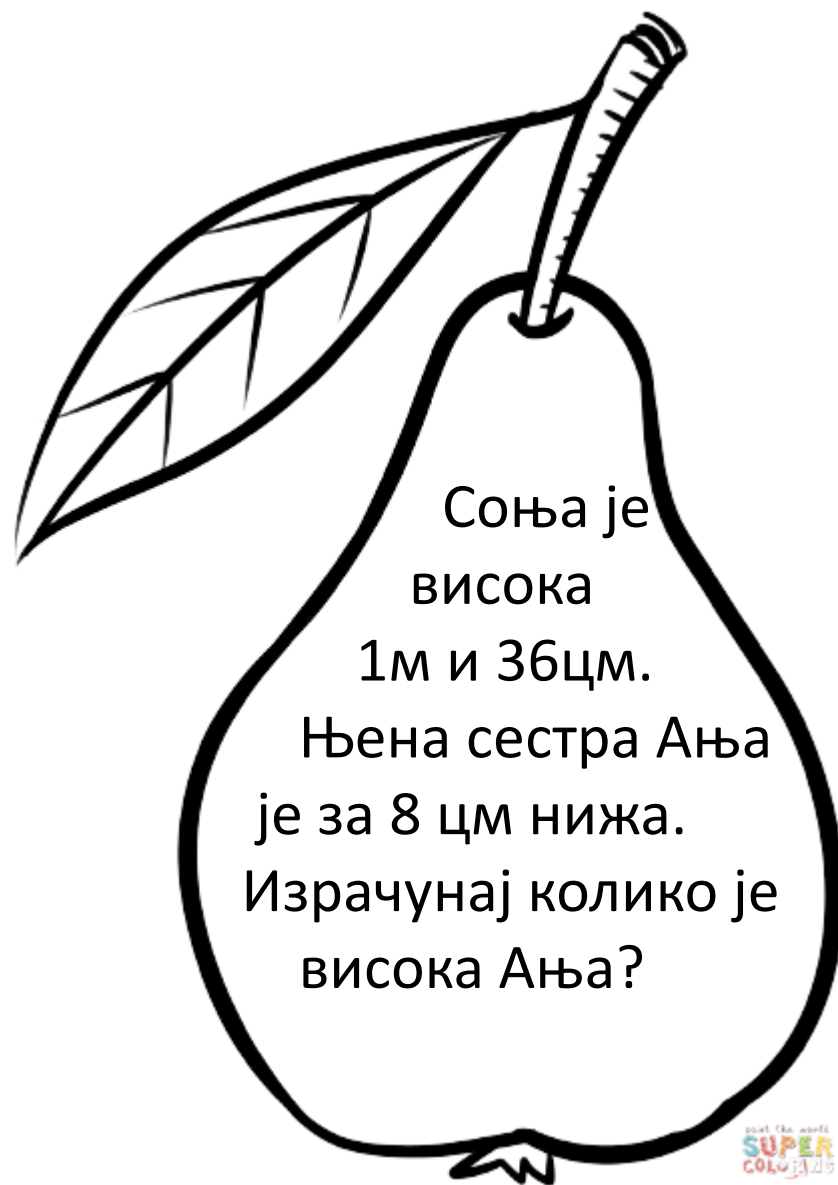
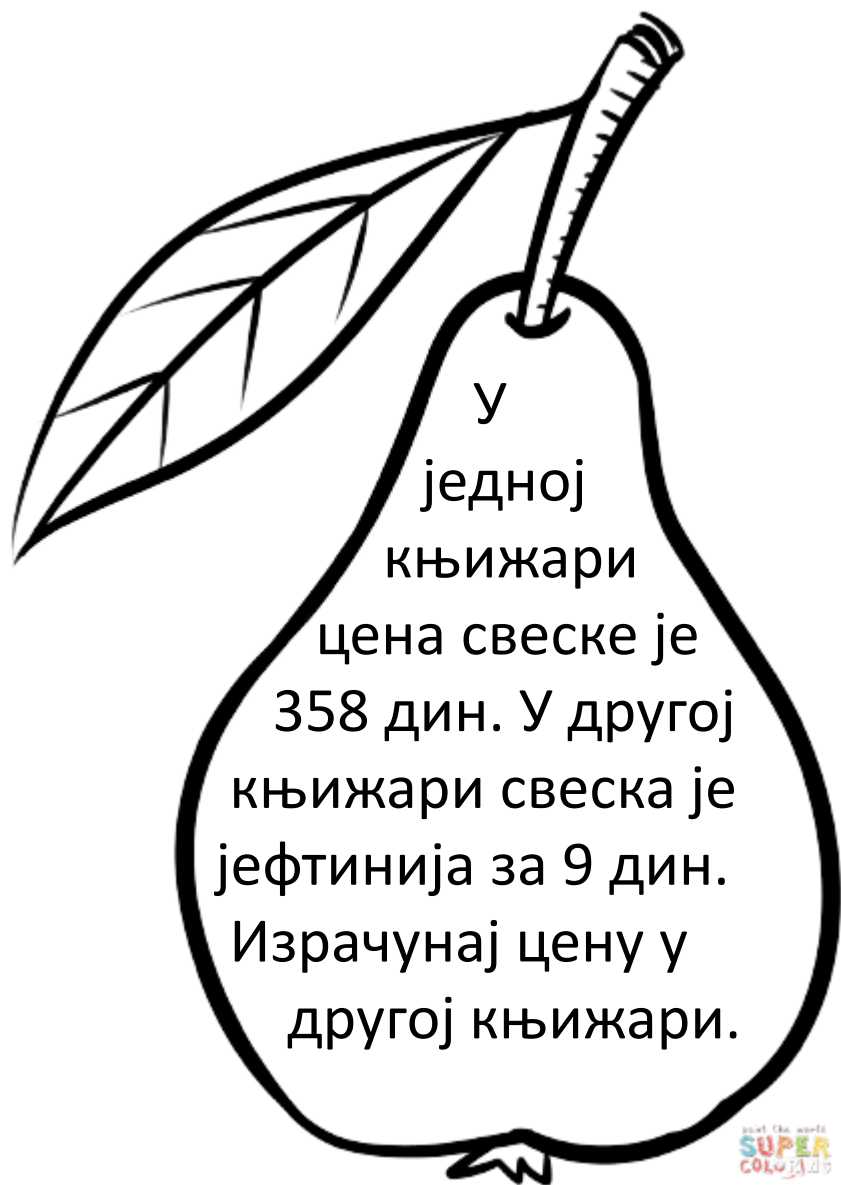
Од збира бројева
460 и 5 одузми
број 8.

Paint the world
SUPER
COLORING



Разлику бројева 566
и 3 увећај за број 7.

Paint the world
SUPER
COLORING



crvena



Спортски клуб је набавио 600 нових лопти. Кошаркашких и рукометних је било 500, рукометних и одбојкашких је било 300. Израчунај колико је лопти било за ове спортове.

$$300 + 200 + 100$$



Сања, Тања и Вања сакупљају сличице. Укупно имају 500 сличица. Сања и Вања имају 300. Сања и Тања имају 400. Израчунај колико сличица има свака од њих.

$$200 + 200 + 100$$

crvena

